







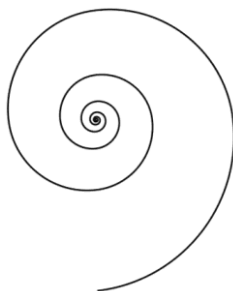
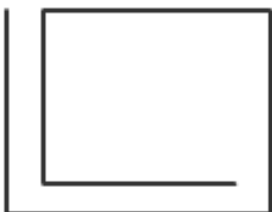
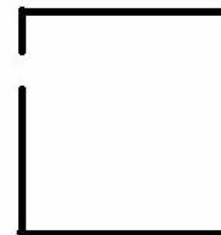




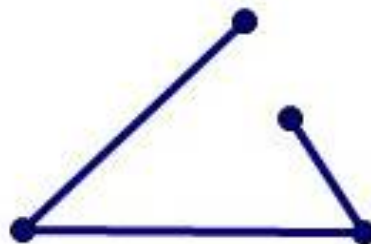



Μέρος Α'




Σχήματα



Γεια σου φίλη μου! Γεια σου φίλε μου!  
Ας θυμηθούμε τι είναι σχήμα! Πάτησε πάνω σε αυτά που πιστεύεις ότι είναι σχήματα!






Για πες μου τώρα...  
Τι είναι σχήμα;

Παρατήρησε τα σχήματα που  
βρήκες στην προηγούμενη  
διαφάνεια!

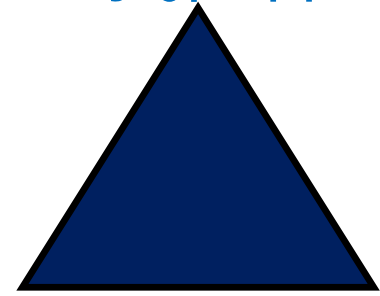


Τι άλλο έχει ένα σχήμα;

(Πάτησε την καρδούλα για να δεις αν  
απάντησες σωστά! [❤️](#))








Τα σχήματα είναι **κλειστά!**

Τα σχήματα έχουν ευθείες γραμμές ή καμπύλες!  
Πάτησε πάνω στα σχήματα που έχουν ευθείες γραμμές:








Θυμάσαι πώς λέγονται οι ευθείες γραμμές που έχουν τα σχήματα...;  
Μπράβο! Το βρήκες! **Πλευρές!**

Πάτησε πάνω στα σχήματα που έχουν καμπύλες γραμμές:

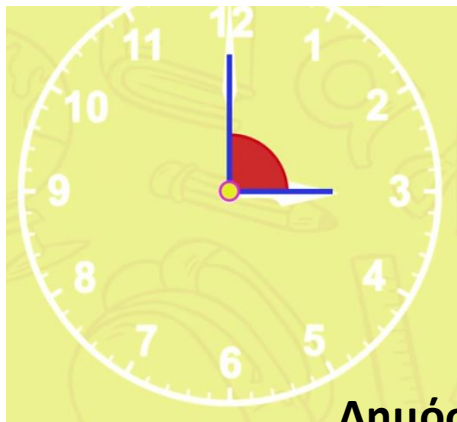


Κάποια σχήματα έχουν γωνίες! Πάτησε πάνω στα σχήματα που έχουν γωνίες!





Ας θυμηθούμε  
τις γωνίες...



Παντού, γύρω μας  
υπάρχουν γωνίες!

[ΣΥΝΕΧΕΙΑ – ΠΑΤΗΣΕ ΕΔΩ](#)

Εικόνες: <https://www.youtube.com/watch?v=9RTM418qfdI>


Ορθή γωνία



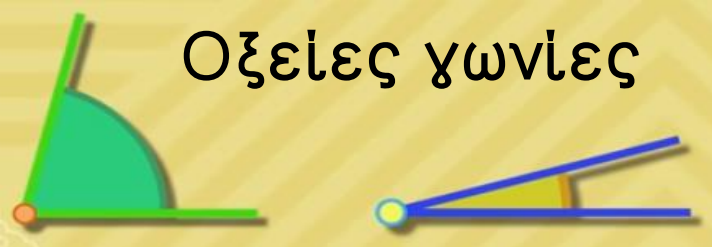
Οξεία γωνία  
(μικρότερη από την  
ορθή γωνία)



Αμβλεία γωνία  
(μεγαλύτερη από την  
ορθή γωνία)



Οξείες γωνίες



Αμβλείες γωνίες



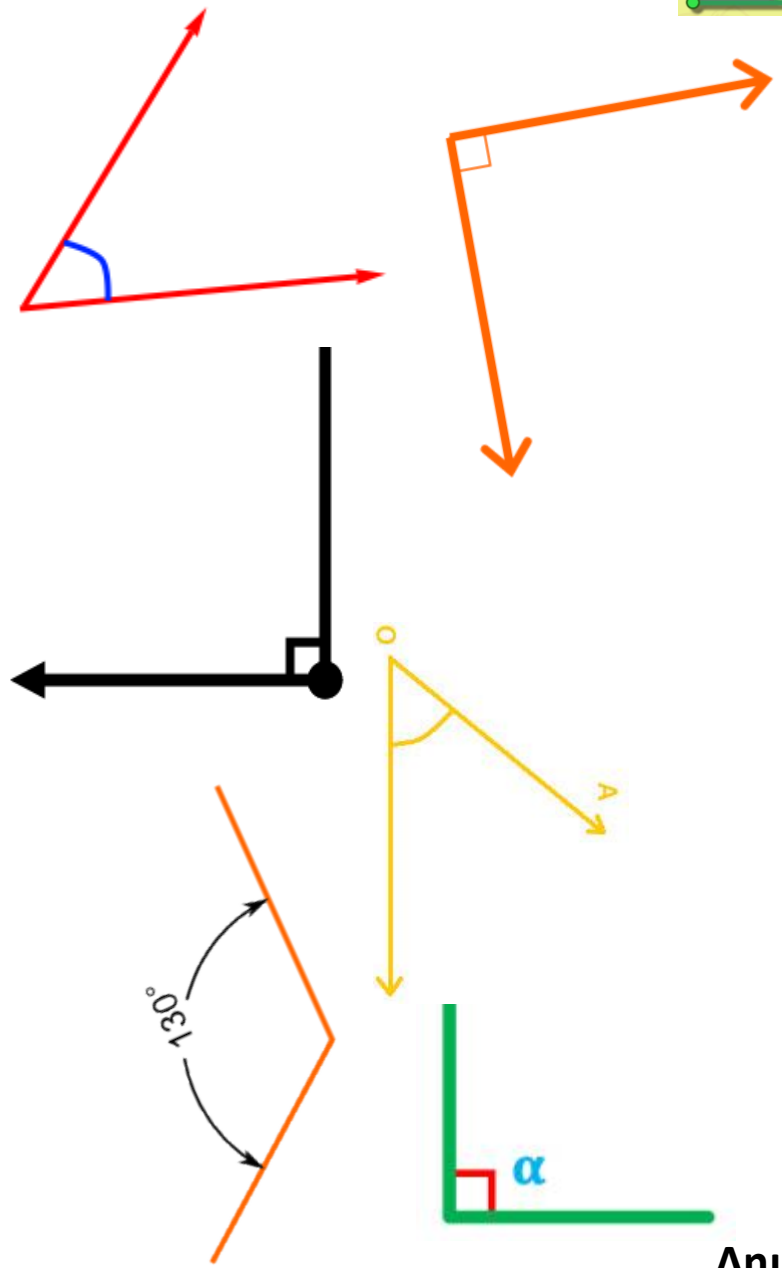
Εικόνες: <https://www.youtube.com/watch?v=9RTM418qfdI>

Ας θυμηθούμε τις γωνίες...

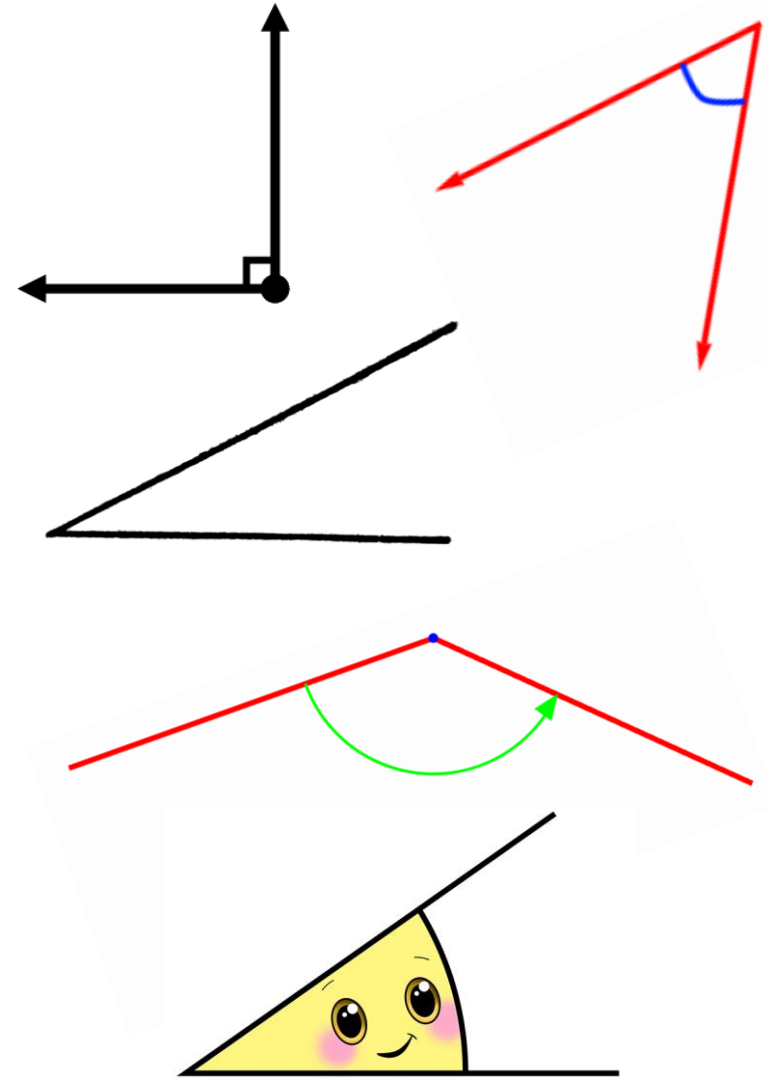
Υπάρχουν 3 είδη γωνιών!

[ΣΥΝΕΧΕΙΑ - ΠΑΤΗΣΕ ΕΔΩ!](#)

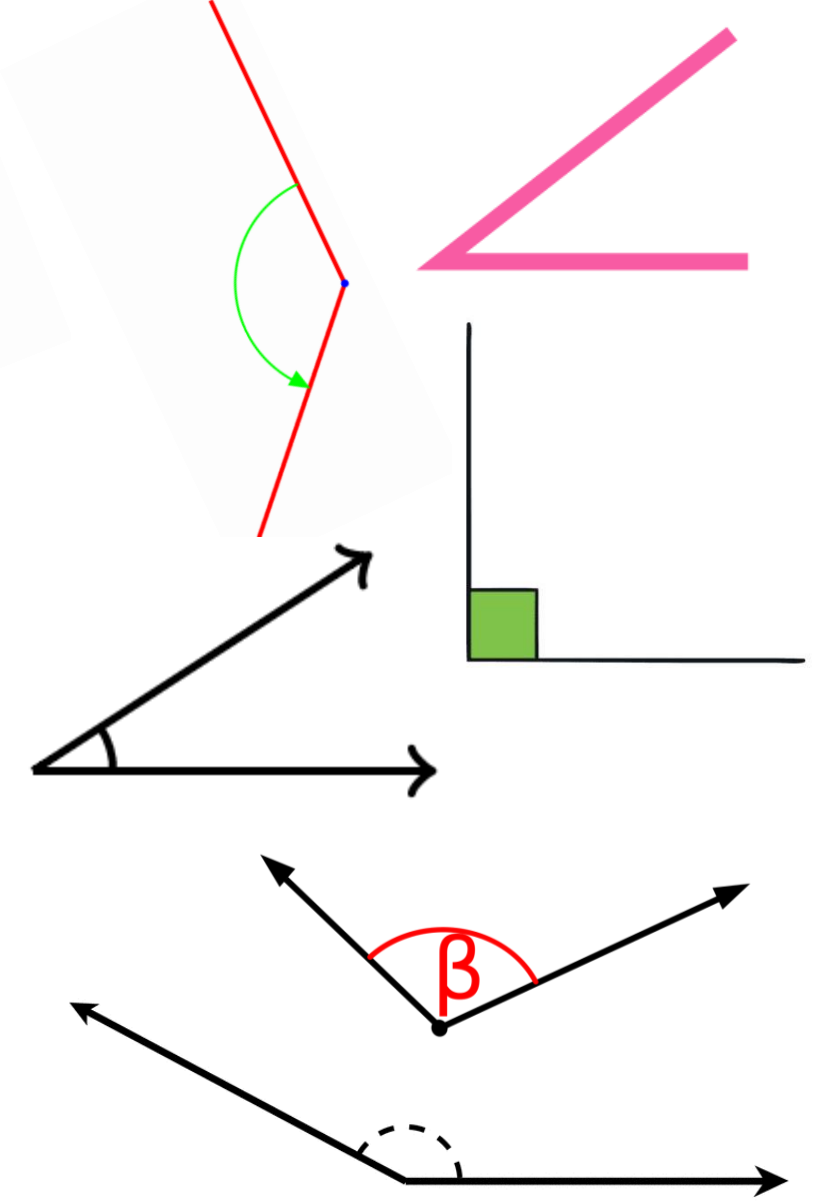
# Βρες 3 ορθές γωνίες



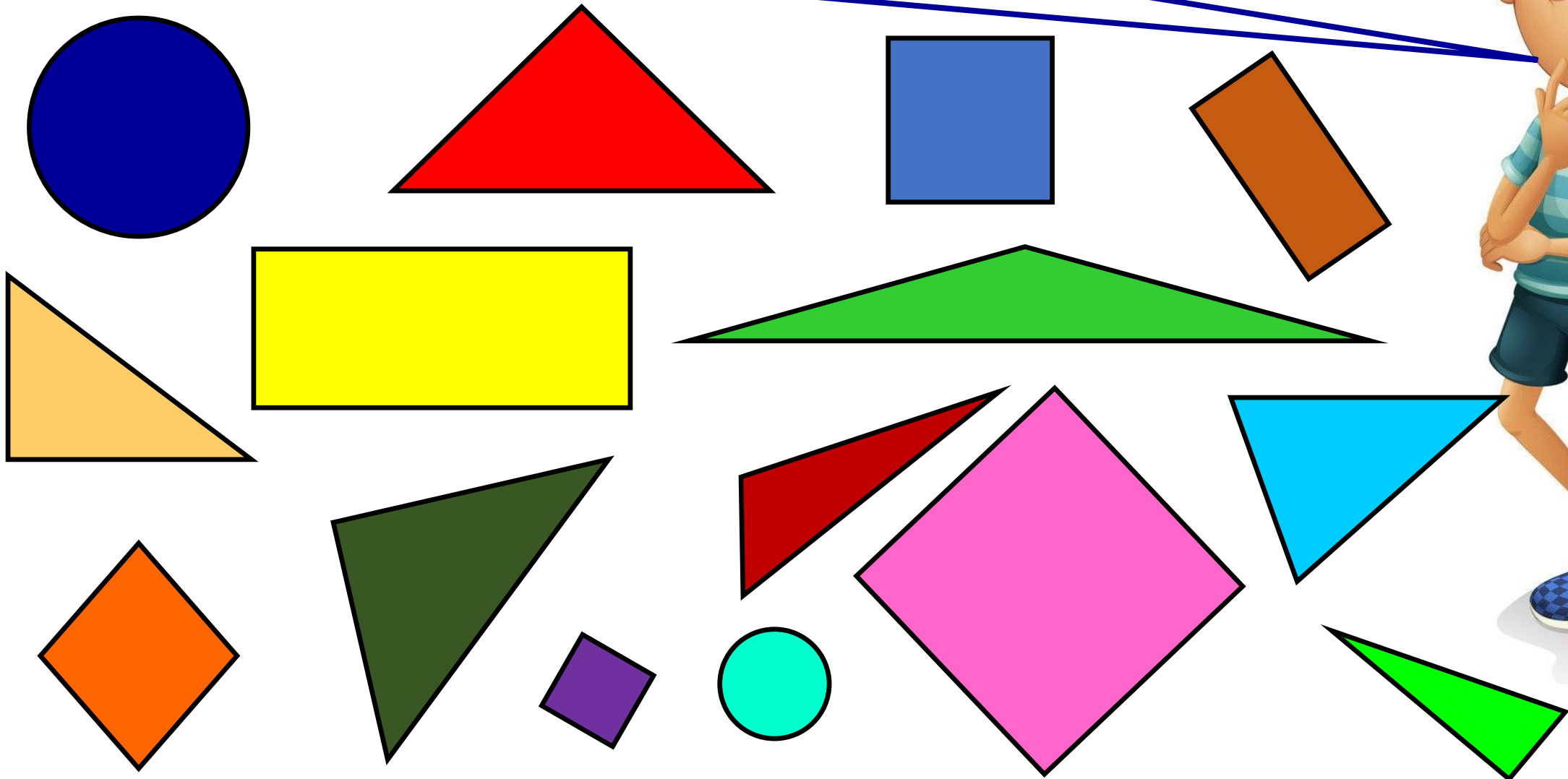
# Βρες 3 οξείες γωνίες



# Βρες 3 αμβλείες γωνίες










Χμμ... Άραγε ποιο σχήμα έχει 3 πλευρές και 3 γωνιές;  
Μπορείς, να με βοηθήσεις να το βρω; Πάτησε μόνο  
πάνω στα σχήματα που έχουν 3 πλευρές και 3 γωνιές!












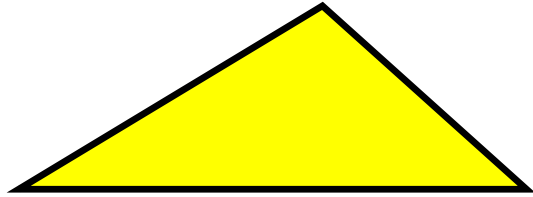


Μπράβο! Το βρήκες! Το τρίγωνο!  
Τώρα, πάτησε μόνο πάνω στα τρίγωνα!



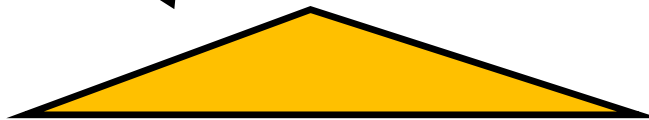


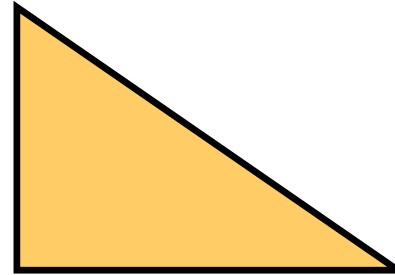
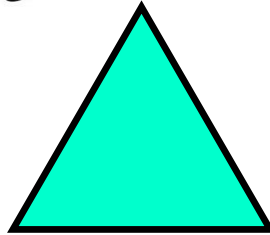




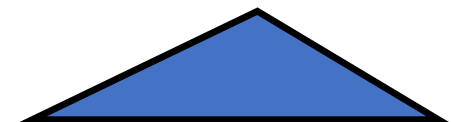
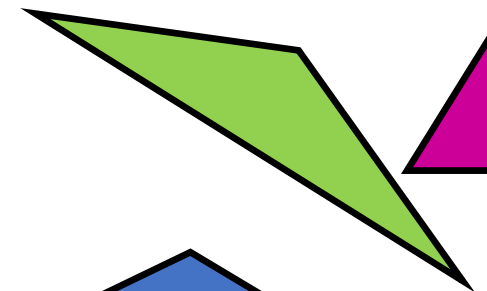
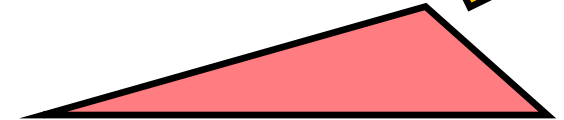


Πάτησε μόνο πάνω  
στα τρίγωνα που  
έχουν ορθή γωνία!



Πάτησε πάνω στα  
τρίγωνα που  
έχουν μόνο οξείες  
γωνίες!





Πάτησε πάνω  
στα τρίγωνα  
που έχουν μία  
αμβλεία  
γωνία!





Πόσες από τις πιο κάτω ράβδους θα χρειαστείς για να φτιάξεις ένα τρίγωνο; Γιατί; Πάτησε πάνω στο σωστό αριθμό!






Τι παρατηρείς γι' αυτές τις  
τρεις ράβδους; Τύπωσε αυτή  
τη σελίδα.

Κόψε προσεκτικά την κάθε  
ράβδο και κόλλησε τις με  
τέτοιο τρόπο στο χαρτί  
ώστε να δημιουργήσεις ένα  
τρίγωνο!

Αφού κατασκευάσεις το  
τρίγωνό σου, πάτησε πάνω  
στην εικόνα μου!






Τι παρατηρείς γι' αυτές τις τρεις ράβδους; Τύπωσε αυτή τη σελίδα.

Κόψε προσεκτικά την κάθε ράβδο και κόλλησε τις με τέτοιο τρόπο στο χαρτί ώστε να δημιουργήσεις ένα τρίγωνο!

Αφού κατασκευάσεις το τρίγωνό σου, πάτησε πάνω στην εικόνα μου!







Τι παρατηρείς γι' αυτές τις τρεις ράβδους; Τύπωσε αυτή τη σελίδα.

Κόψε προσεκτικά την κάθε ράβδο και κόλλησε τις με τέτοιο τρόπο στο χαρτί ώστε να δημιουργήσεις ένα τρίγωνο!


Αφού κατασκευάσεις το τρίγωνό σου, πάτησε πάνω στην εικόνα μου!



Για να φτιάξεις 2 τρίγωνα, άραγε, πόσες ράβδους πρέπει να χρησιμοποιήσεις; Τύπωσε αυτή τη σελίδα και κόψε όσες ράβδους θα χρειαστείς! Κατασκεύασε τα τρίγωνα σου κολλώντας τις ράβδους στο χαρτί και περιέγραψε κάθε τρίγωνο σου μιλώντας για τις ράβδους που χρησιμοποίησες σε κάθε τρίγωνο.

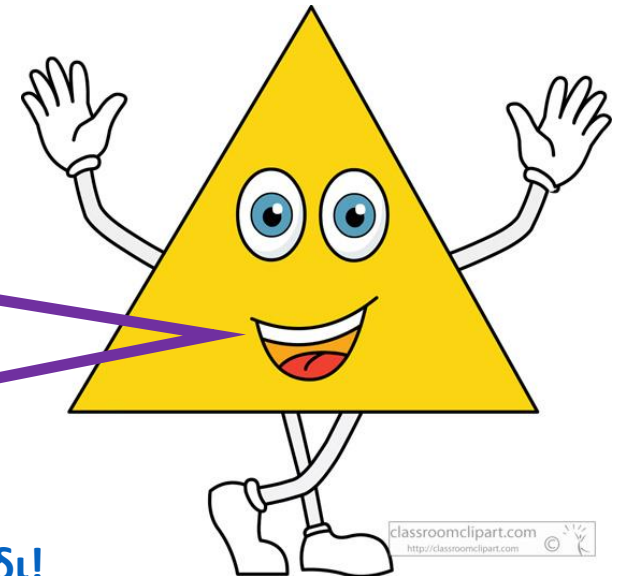


Αφού  
τελειώσεις,  
πάτησε εδώ!




Μπράβο! Το βρήκες!

Τώρα, πάτησε πάνω  
μου για να βρεις κι  
άλλα σχήματα!




[Αφού τα βρεις όλα, πάτησε εδώ για να παίξεις το επόμενο παιχνίδι!](#)





Ουπς! Δοκίμασε  
ξανά!




Πάτησε πάνω μου  
για να  
ξαναδοκιμάσεις!



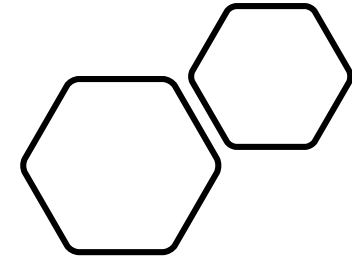

Μπράβο! Το βρήκες!

Τώρα, πάτησε πάνω  
μου για να βρεις κι  
άλλα σχήματα!



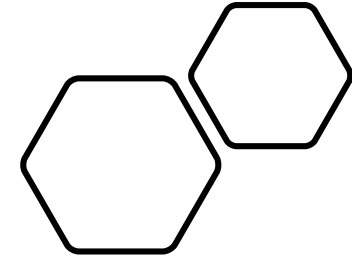
Αφού τα βρεις όλα και στις τρεις ερωτήσεις, πάτησε εδώ για να διαβάσεις την επόμενη διαφάνεια!

Ουπς! Δοκίμασε ξανά!




[Πάτησε εδώ για να δοκιμάσεις ξανά!](#)

Μπράβο! Το βρήκες!

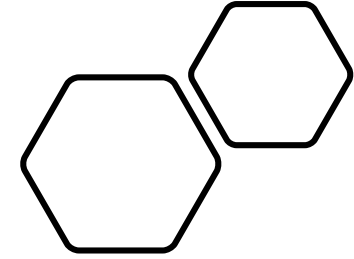


Πάτησε εδώ για να  
βρεις κι άλλα!

Αφού τα βρεις όλα, πάτησε εδώ  
για να παίξεις το επόμενο παιχνίδι!



Ουπς! Δοκίμασε ξανά!



Πάτησε εδώ για να  
δοκιμάσεις ξανά!



Ναι! Αυτό είναι ένα  
τρίγωνο!

Πάτησε εδώ για να  
συνεχίσεις!

Αφού τα βρεις όλα, πάτησε εδώ  
για να παίξεις το επόμενο παιχνίδι!

Ουπς! Δοκίμασε ξανά!



Πάτησε εδώ για να  
επιστρέψεις πίσω!

Δημόσιο Νηπιαγωγείο  
Λατσιών Β' 2019 - 2020



# Πολύ σωστά!

Πάτησε εδώ για  
να βρεις κι άλλα!

Αφού τα βρεις όλα και στις τρεις  
δραστηριότητες, πάτησε εδώ  
για να παίξεις το επόμενο παιχνίδι!



Ουπς!  
Δοκίμασε ξανά!



Πάτησε εδώ για να  
δοκιμάσεις ξανά!

Σωστό!



Πάτησε εδώ  
για να συνεχίσεις!

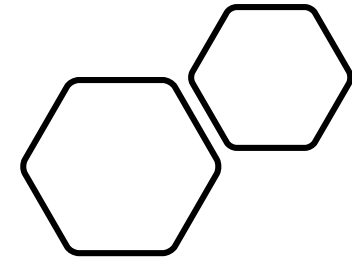


Ουπς!  
Δοκίμασε ξανά!

Πάτησε εδώ για να  
προσπαθήσεις  
ξανά!



# Μπράβο!

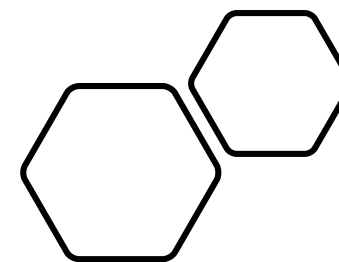


Πάτησε εδώ  
για να βρεις κι  
άλλες!

Αφού τις βρεις όλες και στις τρεις  
δραστηριότητες πάτησε εδώ  
για να παίξεις το επόμενο παιχνίδι!






Ουπς!  
Δοκίμασε  
ξανά!



Πάτησε εδώ για  
να δοκιμάσεις  
ξανά!


Μπράβο! Χρησιμοποίησες τρεις **ίσες** ράβδους για να  
φτιάξεις το τρίγωνο σου!  
Έτσι, μπόρεσες να φτιάξεις ένα τρίγωνο που έχει  
**3 ίσες πλευρές!**



Εικόνες: <https://www.youtube.com/watch?v=9RTM418qfdI>



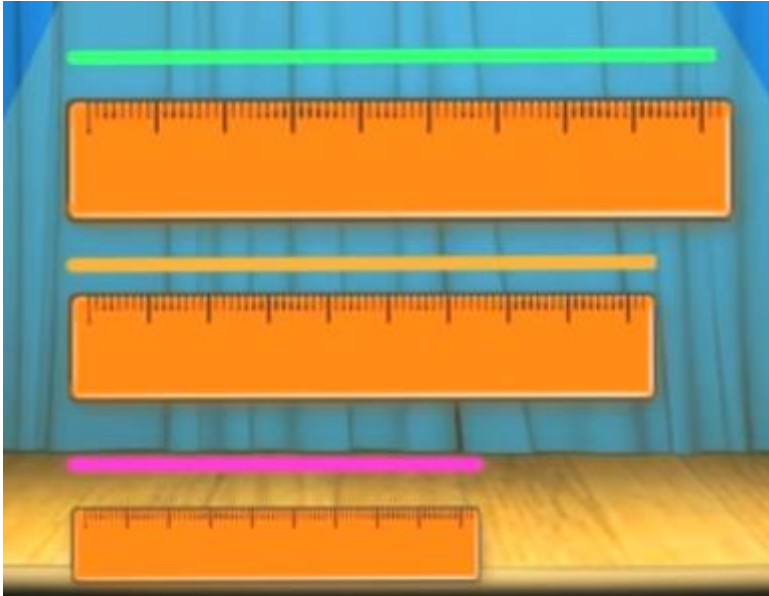

[Πάτησε εδώ για να συνεχίσεις!](#)

Μπράβο! Χρησιμοποίησες δύο **ίσες** ράβδους και μία **διαφορετική** για να φτιάξεις το τρίγωνο σου!  
Έτσι, μπόρεσες να φτιάξεις ένα τρίγωνο που έχει **2 ίσες πλευρές και μία που δεν είναι ίση με τις άλλες 2!**



Εικόνες: <https://www.youtube.com/watch?v=9RTM418qfdI>

Μπράβο! Χρησιμοποίησες τρεις **διαφορετικές** ράβδους  
για να φτιάξεις το τρίγωνο σου!  
Έτσι, μπόρεσες να φτιάξεις ένα τρίγωνο που έχει  
**3 διαφορετικές πλευρές που δεν είναι ίσες μεταξύ τους!**



Εικόνες: <https://www.youtube.com/watch?v=9RTM418qfdI>

[Πάτησε εδώ για να συνεχίσεις!](#)



**Μπράβο!**



**Τα κατάφερες!**

Ολοκλήρωσες όλα τα παιχνίδια με επιτυχία!